



**Юный эрудит (заочный тур)**  
**Задача 5. Смесь геометрических форм**


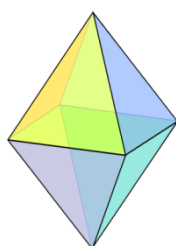


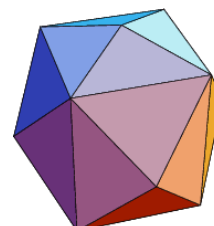
Рис. 1.



I



II



III

Рис. 2.

На негативах просвечивающих микрофотографий смеси разных форм никелево-платиновых наночастиц отмечены некоторые частицы, имеющие форму трех показанных на рис. 2 многогранников.

Каждой из отмеченных на рис. 1 наночастиц сопоставьте отвечающий ей многогранник, приведенный на рис. 2.

**Всего – 4 балла**