




Юный эрудит (заочный тур)

Задача 6. Структура определяет свойства

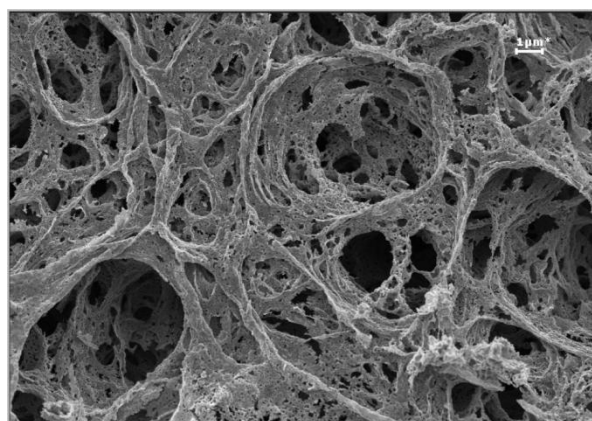
Перед вами два списка: первый содержит микрофотографии структуры неких материалов, а второй демонстрирует свойства, определяемые этой микроструктурой.

Соотнесите объекты из двух списков, опишите взаимосвязь между демонстрируемым свойством и структурой. Кратко объясните Ваш выбор. (5 баллов)

Материалы:




1




2



3



4



5

Свойства:



а



б



в



г



д

Всего – 5 баллов